



Název a adresa školy:

Kraj:

Jméno a příjmení:

Třída: Datum:

Práce bez atlasu

1) Do mapy č. 1 zakresli oblasti, kde se těží hnědé uhlí v ČR a sousedních státech. Označ a zakresli alespoň jednu oblast v každém státě.

a) severní Čechy – Sokolov, Most

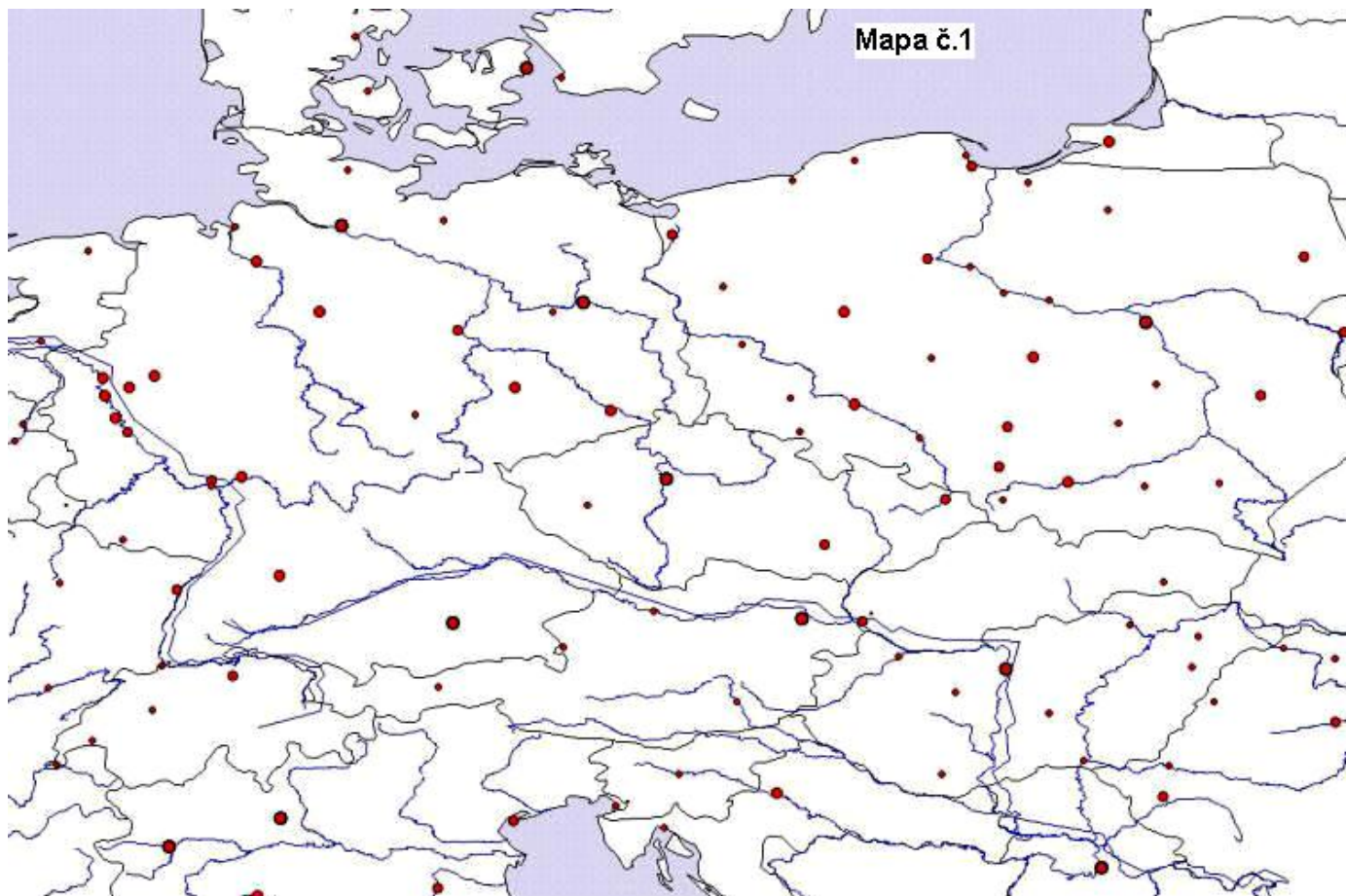
b) Polsko – západně od Lodži – oblast (okolí) města Konin

c) Německo – severně od Drážďan – Schwarze Pumpe

d) Německo – západně od Kolína nad Rýnem

e) Německo – okolí Lipska

f) Německo – západně od Magdeburgu



12 b.

2) Které dřeviny jsou v České republice původní?

- a) lípa
- b) akát
- c) blahovičnick
- d) dub
- e) jilm
- f) habr
- g) cedr

3 b.

3) Co je to NATURA 2000? Podtrhni možnosti se kterými nesouhlasíš.

- a) *soustava chráněných území, které vytvářejí na svém území podle jednotných principů všechny státy EU*
- b) *program určený k ochraně biologické rozmanitosti (ohrožené druhy rostlin, živočichů a přírodních stanovišť)*

- c) soustava ptačích oblastí (v ČR celkem 38 oblastí)*
- d) soustava evropsky významných lokalit (v ČR celkem 879 lokalit)*
- e) festival krátkých filmů s biologickou tematikou*
- f) časopis (měsíční periodikum), který vydává MŽP ČR*

4 b.

4) Hranice mezi Bulharskem a Rumunskem je převážně tvořena (vyber a podtrhni):

- a) Karpaty*
- b) Dunajem*
- c) Starou Planinou*
- d) Sávou*

3 b.

5) Vyber správnou odpověď. Podtrhni oblasti, ve kterých lze navštívit zpřístupněnou krasovou jeskyni v ČR:

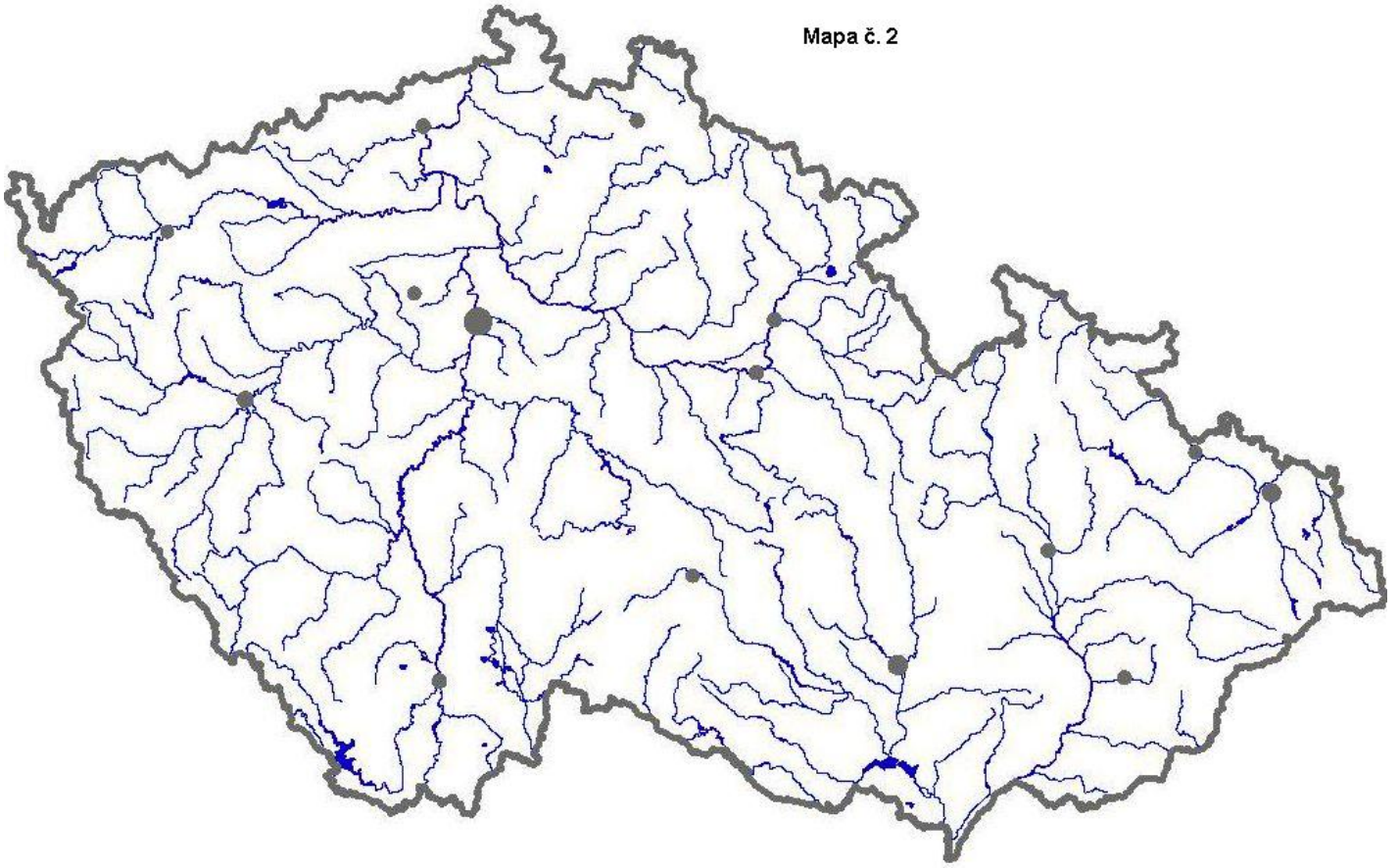
- a) Krkonoše*
- b) Drahanská vrchovina*
- c) Tepelská vrchovina*
- d) Brdy*
- e) Orlické hory*
- f) Bílé Karpaty*

2 b.

6) Do slepé mapy zakresli řeky a označ je písmeny.

- a) Svitavu*
- b) Úpu*
- c) Otavu*
- d) Bílinu*
- e) Opavu*
- f) Jihlavu*

Mapa č. 2



6 b.

7) Klimatické poměry v pohořích střední Evropy závisejí na (označ správné odpovědi):

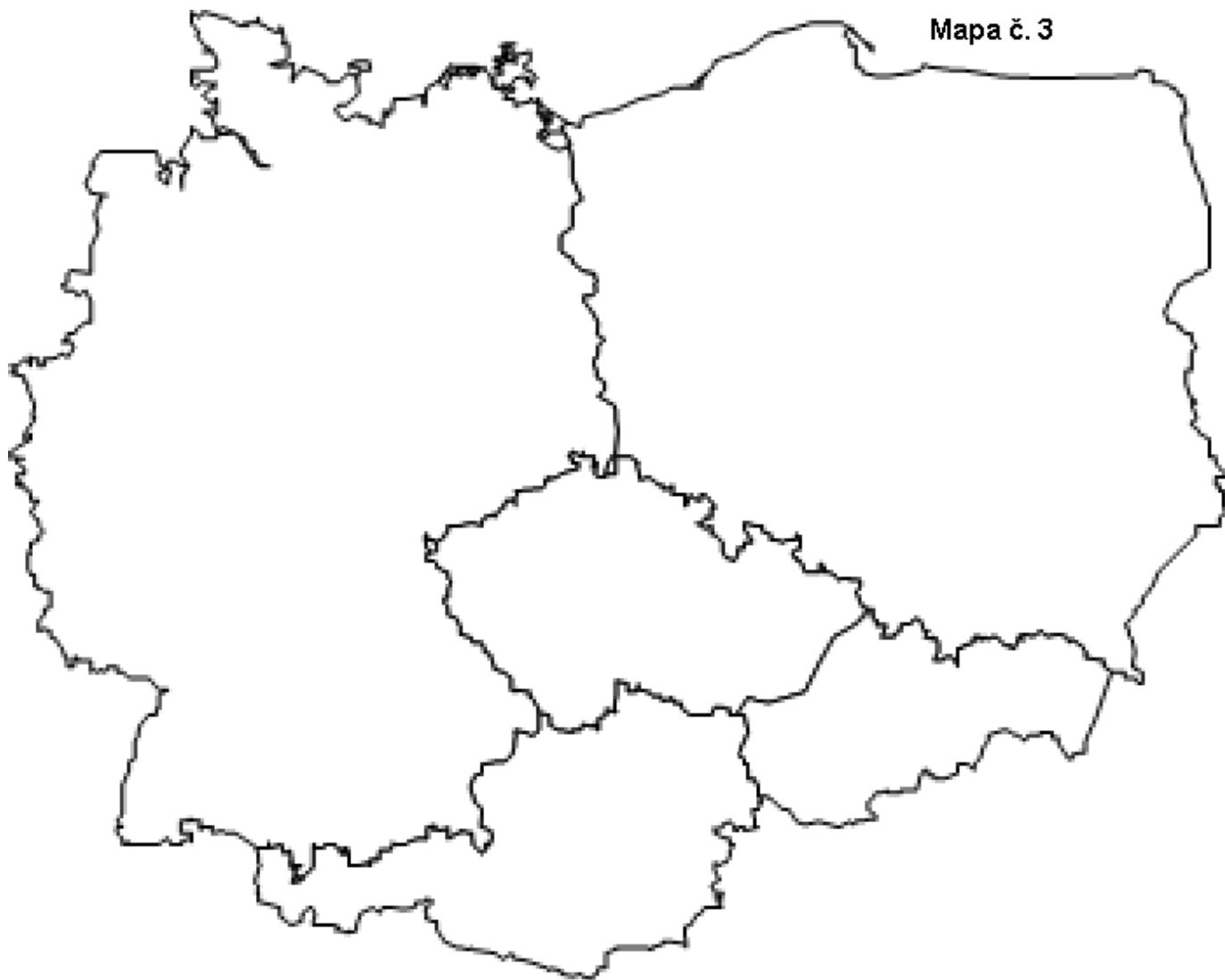
- a) na zeměpisné šířce
- b) na nadmořské výšce
- c) na vzdálenosti od oceánu
- d) na expozici (orientaci) svahů
- e) na geologickém podkladě
- f) na typu půd

4 b.

8) Do mapy č. 3 zakresli Prahu a hlavní města sousedních států. K názvům hlavních měst uveď, kterým směrem leží od Prahy a na které řece.

- Bratislava –
- Vídeň –
- Berlín –
- Varšava –

Mapa č. 3



5 b.

MAXIMÁLNĚ DOSAŽENO 50 b.